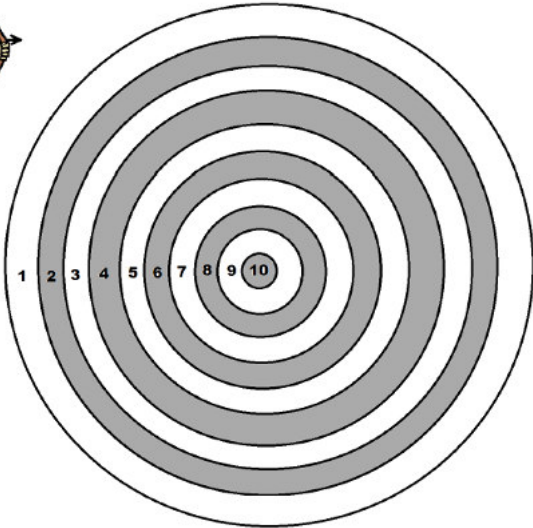


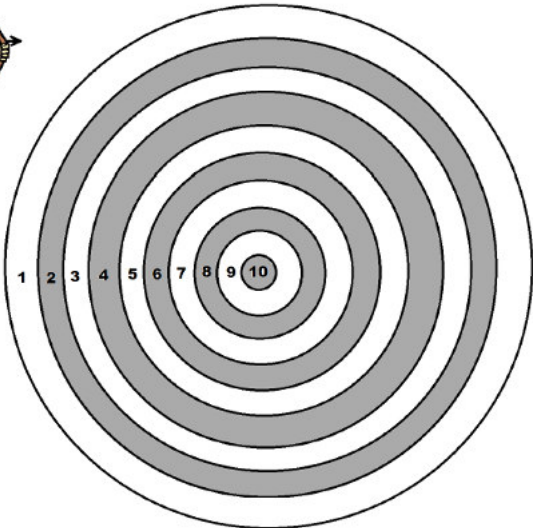
Mes réponses

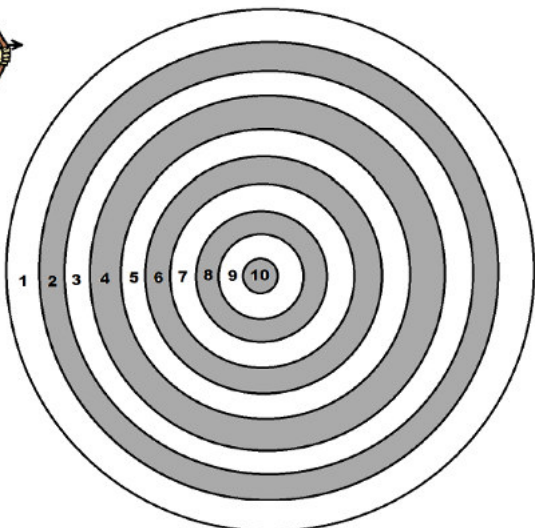
**LE DÉFI
DU LUNDI**

Trouve 6 possibilités d'obtenir **19 points** en lançant **3 flèches**. Attention, pas de flèche dans la zone « 10 points ».

Pour cela, place un point dans la zone où arrive chaque flèche. Ecris le calcul correspondant à côté de chaque cible.

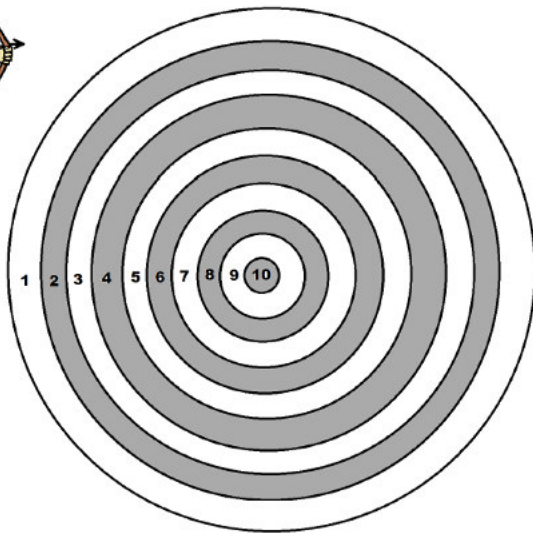


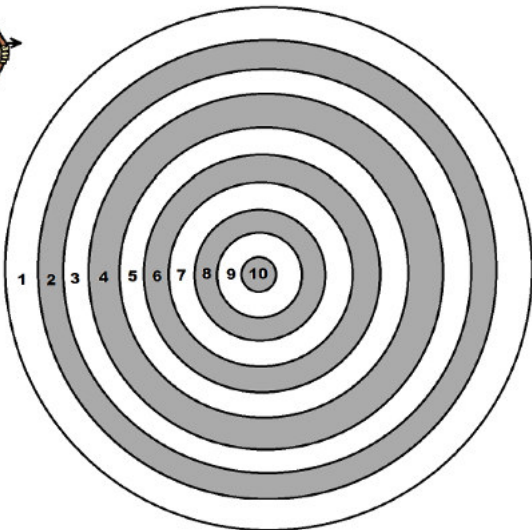


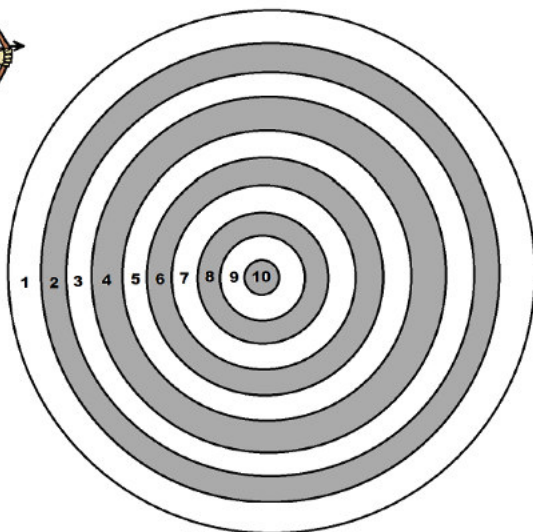


Mes réponses (suite)

Trouve 6 possibilités d'obtenir 19 points en lançant 3 flèches. Attention, pas de flèche dans la zone « 10 points ».







LE DÉFI

DU JEUDI

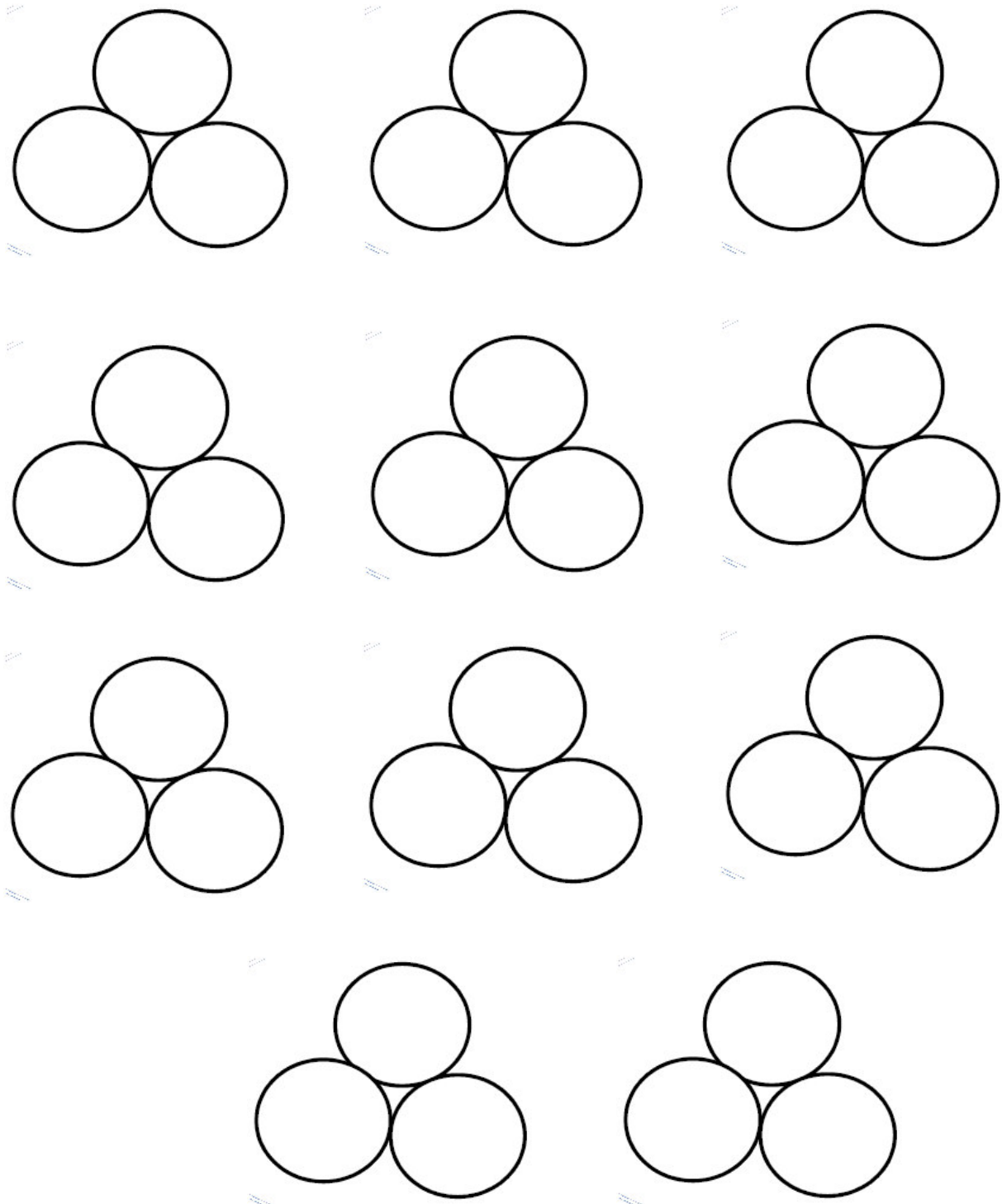
Mes réponses

CE1 CE2

Retrouve les 10 possibilités de préparer une glace 3 boules.

Abricot, Vanille, Chocolat, Fraise et Pistache

A pour Abricot, V pour Vanille, C pour Chocolat, F pour Fraise et P pour Pistache
(Utilise les couleurs : orange pour abricot, jaune pour vanille, marron pour chocolat, rose pour fraise, vert pour pistache)



Mon total de réponses justes (sur 88) : _____





**LE DÉFI
DU VENDREDI**

Sudoku

1	2		
	4		
		4	
		1	2

1			2
	4		
		1	
3			4

4	1		
2			
			4
		1	2

1	3		
	2		
		1	2
		4	

Nombres de chiffres justes sur 40 :

3		1	6		
	5				
5				3	1
2	1				6
				6	
		6	1		3

2			4		
			2	1	
		5			
			1		
	6	4			
		1			3

Grille 1 : Nombres de chiffres justes sur 22 =

Grille 2 : Nombres de chiffres justes sur 26 =